

問題を解く

類型化を多角的に行う



要素に分解



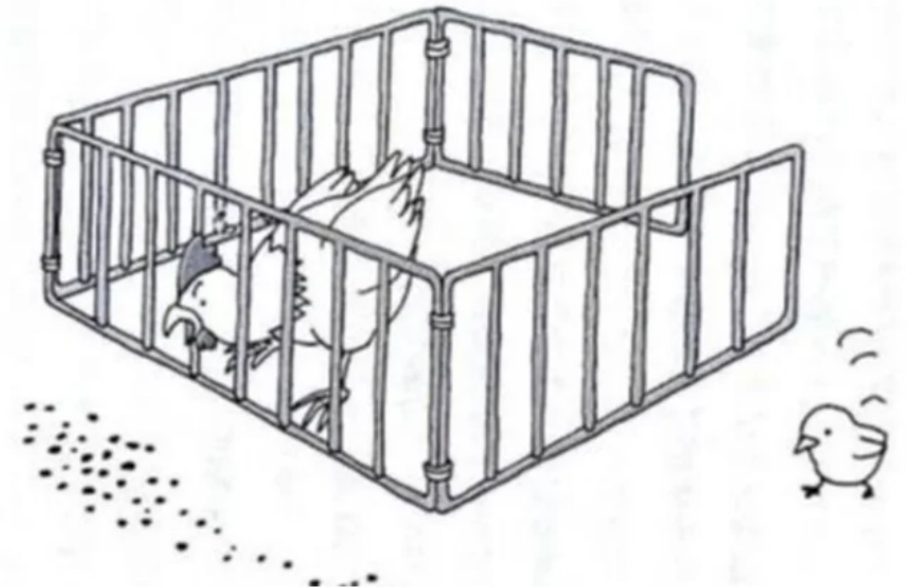
各要素を1つ1つ解決





解決できない要素の分析

←マニユアルカ


キュリオシティ・ドリブン






数式で表すと
 $1 + 1 = 2$ ですね

では、以下を数式で表すと？



$1 + 1 = 1 + 1$ ですか

問題 ??にはいる数字は？



拡大すると4本



拡大すると3本



正解は2通り

りんご:10 バナナ:4 ココナッツ:2とすると
 $2 + 10 + 4 = 16$

りんご:10 バナナ1本:1 ココナッツ半分:1とすると
 $1 + 10 + 3 = 14$